







Gøy Addisjon

Finn det manglende tallet for å fullføre addisjonen!

1.  +  _____  2

2.     +  _____  7

3.    +  _____  6

4.      +  _____  7

5.  +  _____  4

6.   +  _____  4