




# Gøy Addisjon

Finn det manglende tallet for å fullføre addisjonen!

1.  +  \_\_\_\_\_  6

2.  +  \_\_\_\_\_  5

3.  +  \_\_\_\_\_  8

4.  +  \_\_\_\_\_  7

5.  +  \_\_\_\_\_  3

6.  +  \_\_\_\_\_  6