



Gøy Addisjon

Finn det manglende tallet for å fullføre addisjonen!


1.  $+$ $1 = 2$ $1 + 1 = 2$

2.  $+$ $2 = 5$ $3 + 2 = 5$

3.  $+$ $4 = 5$ $1 + 4 = 5$

4.  $+$ $5 = 9$ $4 + 5 = 9$

5.  $+$ $3 = 8$ $5 + 3 = 8$

6.  $+$ $5 = 10$ $5 + 5 = 10$