






# Gøy Addisjon

Finn det manglende tallet for å fullføre addisjonen!

1.  +  \_\_\_\_\_ =  2

2.  +  \_\_\_\_\_ =  5

3.  +  \_\_\_\_\_ =  5

4.  +  \_\_\_\_\_ =  9

5.  +  \_\_\_\_\_ =  8

6.  +  \_\_\_\_\_ =  10