




# Gøy Addisjon

Finn det manglende tallet for å fullføre addisjonen!

1.  + 5 = 8 3 + 5 = 8

2.  + 5 = 7 2 + 5 = 7

3.  + 3 = 4 1 + 3 = 4

4.  + 2 = 7 5 + 2 = 7

5.  + 4 = 9 5 + 4 = 9

6.  + 4 = 7 3 + 4 = 7