







Gøy Addisjon

Finn det manglende tallet for å fullføre addisjonen!

1.  + 4 = 5 1 + 4 = 5

2.  + 2 = 3 1 + 2 = 3

3.  +  = 5 2 + 3 = 5

4.  +  = 6 2 + 4 = 6

5.  +  +  = 8 3 + 5 = 8

6.  +  +  +  +  + 1 = 6 5 + 1 = 6