









Gøy Addisjon

Finn det manglende tallet for å fullføre addisjonen!

1.  + 2 = 3 1 + 2 = 3

2.    + 2 = 5 3 + 2 = 5

3.    + 1 = 4 3 + 1 = 4

4.      + 2 = 7 5 + 2 = 7

5.      + 1 = 6 5 + 1 = 6

6.     + 4 = 8 4 + 4 = 8