

Gøy Addisjon

Finn det manglende tallet for å fullføre addisjonen!







1.  +  _____ =  3

2.    +  _____ =  5

3.    +  _____ =  4

4.      +  _____ =  7

5.      +  _____ =  6

6.     +  _____ =  8