


Gøy Addisjon


Finn det manglende tallet for å fullføre addisjonen!


1.  + 5 = 10 5 + 5 = 10

2.  + 4 = 7 3 + 4 = 7

3.  + 4 = 8 4 + 4 = 8

4.  + 2 = 3 1 + 2 = 3

5.  + 1 = 4 3 + 1 = 4

6.  + 1 = 5 4 + 1 = 5