




# Gøy Addisjon



Finn det manglende tallet for å fullføre addisjonen!


1.   + 4 = 6 2 + 4 = 6

2.    + 3 = 6 3 + 3 = 6

3.     + 4 = 8 4 + 4 = 8

4.  + 5 = 6 1 + 5 = 6

5.   + 3 = 5 2 + 3 = 5

6.  + 2 = 3 1 + 2 = 3