

# Gøy Addisjon

Finn det manglende tallet for å fullføre addisjonen!








1.   +  \_\_\_\_\_ =  4

2.    +  \_\_\_\_\_ =  8

3.     +  \_\_\_\_\_ =  5

4.   +  \_\_\_\_\_ =  5

5.  +  \_\_\_\_\_ =  6

6.      +  \_\_\_\_\_ =  8