

Gøy Addisjon




Finn det manglende tallet for å fullføre addisjonen!

1.  +  _____ =  3

2.  +  _____ =  4

3.  +  _____ =  5

4.  +  _____ =  5

5.  +  _____ =  6

6.  +  _____ =  7