




Gøy Addisjon


Finn det manglende tallet for å fullføre addisjonen!


1.  $+$ 4 $=$ 8 4 + 4 = 8

2.  $+$ 4 $=$ 5 1 + 4 = 5

3.  $+$ 4 $=$ 9 5 + 4 = 9

4.  $+$ 1 $=$ 5 4 + 1 = 5

5.  $+$ 3 $=$ 4 1 + 3 = 4

6.  $+$ 4 $=$ 6 2 + 4 = 6