


Gøy Addisjon


Finndet manglende tallet for å fullføre addisjonen!


1.  + 5 = 8 3 + 5 = 8

2.  + 3 = 8 5 + 3 = 8

3.  + 4 = 9 5 + 4 = 9

4.  + 1 = 6 5 + 1 = 6

5.  + 3 = 7 4 + 3 = 7

6.  + 3 = 4 1 + 3 = 4