



Gøy Addisjon


Finn det manglende tallet for å fullføre addisjonen!


1.  ¹ + 2 = 3 1 + 2 = 3

2.  ¹ + 3 = 4 1 + 3 = 4

3.  ¹  ²  ³ + 1 = 4 3 + 1 = 4

4.  ¹  ²  ³  ⁴ + 3 = 7 4 + 3 = 7

5.  ¹  ²  ³  ⁴ + 2 = 6 4 + 2 = 6

6.  ¹ + 4 = 5 1 + 4 = 5