








Gøy Addisjon

Finn det manglende tallet for å fullføre addisjonen!

1.  +  _____ =  3

2.  +  _____ =  4

3.    +  _____ =  4

4.     +  _____ =  7

5.     +  _____ =  6

6.  +  _____ =  5