



Gøy Addisjon


Finn det manglende tallet for å fullføre addisjonen!


1.  $+$ 4 $=$ 5 $1 + 4 = 5$

2.  $+$ 1 $=$ 2 $1 + 1 = 2$

3.  $+$ 5 $=$ 10 $5 + 5 = 10$

4.  $+$ 5 $=$ 8 $3 + 5 = 8$

5.  $+$ 5 $=$ 7 $2 + 5 = 7$

6.  $+$ 4 $=$ 6 $2 + 4 = 6$