





Gøy Addisjon

Finn det manglende tallet for å fullføre addisjonen!

1.  +  _____ =  5

2.  +  _____ =  2

3.  + _____ =  10

4.  +  _____ =  8

5.  +  _____ =  7

6.  +  _____ =  6