




















Hvert bilde teller dobbelt

Navn: _____ Dato: _____



Hvert bilde står for 2! Skriv det virkelige antallet for hver rad.

				
				
				
				
	= 2			

	=	<input type="text"/>
	=	<input type="text"/>
	=	<input type="text"/>
	=	<input type="text"/>