





# Tell og lag diagram

Navn: \_\_\_\_\_ Dato: \_\_\_\_\_

★ Les antallet. Fargelegg en rute i diagrammet for hver enhet.

|   |   |   |   |
|---|---|---|---|
|  2 |  4 |  6 |  8 |
|---|---|---|---|

|   |  |  |  |  |  |  |  |
|---|--|--|--|--|--|--|--|
|  |  |  |  |  |  |  |  |
|  |  |  |  |  |  |  |  |
|  |  |  |  |  |  |  |  |
|  |  |  |  |  |  |  |  |