





Hvert bilde betyr 5

Navn: _____ Dato: _____

★ Hvert bilde står for 5! Skriv det virkelige antallet for hver rad.

	 
	
	  
	   
	= 5

	=	<input type="text"/>
	=	<input type="text"/>
	=	<input type="text"/>
	=	<input type="text"/>