










# Hvert bilde betyr 5

Navn: \_\_\_\_\_ Dato: \_\_\_\_\_

★ Hvert bilde står for 5! Skriv det virkelige antallet for hver rad.

	_____
	_____
	_____
	_____
 = 5	

	=	<input type="text"/>
	=	<input type="text"/>
	=	<input type="text"/>
	=	<input type="text"/>