






Tell i grupper

Navn: _____ Dato: _____

★ Hver rute har like mange. Tell med like sprang og skriv summen så langt.

				
5	<input type="text"/>	<input type="text"/>	<input type="text"/>	<input type="text"/>