





Moro med Subtraksjon

Finn det manglende tallet for å fullføre subtraksjonen!

1.   -  ___  = 1

2.      -  ___  = 3

3.    -  ___  = 2

4.    -  ___  = 1

5.          -  ___  = 8

6.     -  ___  = 1