




Moro med Subtraksjon

Finn det manglende tallet for å fullføre subtraksjonen!

1.  -  ___  1

2.  -  ___  4

3.  -  ___  1

4.  -  ___  1

5.  -  ___  4

6.  -  ___  7