




Moro med Subtraksjon

Finn det manglende tallet for å fullføre subtraksjonen!


1.  -  ___  6

2.  -  ___  2

3.  -  ___  1

4.  -  ___  3

5.  -  ___  2

6.  -  ___  5