





# Moro med Subtraksjon

Finn det manglende tallet for å fullføre subtraksjonen!

1.  -  \_\_\_ =  1

2.  -  \_\_\_ =  6

3.  -  \_\_\_ =  3

4.  -  \_\_\_ =  9

5.  -  \_\_\_ =  3

6.  -  \_\_\_ =  1