




Moro med Subtraksjon

Finn det manglende tallet for å fullføre subtraksjonen!

1.  -  ___  1

2.  -  ___  1

3.  -  ___  3

4.  -  ___  4

5.  -  ___  2

6.  -  ___  1