




# Moro med Subtraksjon

Finn det manglende tallet for å fullføre subtraksjonen!

1.  -  \_\_\_  = 1

2.  -  \_\_\_  = 6

3.  -  \_\_\_  = 5

4.  -  \_\_\_  = 4

5.  -  \_\_\_  = 7

6.  -  \_\_\_  = 3