




Cada figura vale 5


Nome: _____ Data: _____


★ Cada figura vale 5! Escreva a contagem real de cada fileira.


Row 1:  _____


Row 2:  _____


Row 3:  _____


Row 4:  _____

Row 5:  = 5

 =

 =

 =

 =