




















# Cada figura vale dois

Nome: \_\_\_\_\_ Data: \_\_\_\_\_

★ Cada figura vale 2! Escreva a contagem real de cada fileira.

				
				
				
				
	= 2			

	=	<input type="text"/>
	=	<input type="text"/>
	=	<input type="text"/>
	=	<input type="text"/>