





Cada figura vale 5

Nome: _____ Data: _____

★ Cada figura vale 5! Escreva a contagem real de cada fileira.

		_____
		_____
		_____
		_____
	= 5	

	=	<input type="text"/>
	=	<input type="text"/>
	=	<input type="text"/>
	=	<input type="text"/>