






Conte em grupos

Nome: _____ Data: _____

★ Cada caixa tem a mesma quantidade. Conte saltando e escreva o total.

				
5	<input type="text"/>	<input type="text"/>	<input type="text"/>	<input type="text"/>