









# Rolig Addition

Addera talen och skriv dina svar!







1.     $1 + 1 = 2$

2.          $3 + 4 = 7$

3.           $3 + 5 = 8$

4.          $5 + 2 = 7$

5.         $2 + 4 = 6$

6.        $3 + 2 = 5$