




Rolig Addition

Räkna bilderna, lägg till talet och skriv ditt svar!

1.  + 5 = _____

2.  + 1 = _____

3.  + 3 = _____

4.  + 2 = _____

5.  + 4 = _____

6.  + 3 = _____