




Rolig Addition

Hitta det saknade talet för att slutföra additionen!

1.  +  ___  7

2.  +  ___  4

3.  +  ___  6

4.  +  ___  5

5.  +  ___  3

6.  +  ___  6