






# Rolig Addition

Hitta det saknade talet för att slutföra additionen!

1.   +  \_\_\_\_\_ =  6

2.    +  \_\_\_\_\_ =  4

3.   +  \_\_\_\_\_ =  3

4.  +  \_\_\_\_\_ =  3

5.   +  \_\_\_\_\_ =  7

6.  +  \_\_\_\_\_ =  5