





Varje bild betyder 5

Namn: _____ Datum: _____

★ Varje bild står för 5! Skriv det riktiga antalet för varje rad.

	 	_____
		_____
	  	_____
	   	_____
	= 5	

	=	<input type="text"/>
	=	<input type="text"/>
	=	<input type="text"/>
	=	<input type="text"/>