





Bygg diagrammet

Namn: _____ Datum: _____

★ Använd tabellen. Måla en stapel för varje värde.

| | |
|---|----------|
|  | 3 |
|  | 2 |
|  | 1 |
|  | 4 |

