



Vilken har färre?


Namn: _____ Datum: _____

★ Titta på båda grupperna. Ringa in gruppen som har FÄRRE.

1



2



3

