

Skattjakt

Följ ledtrådarna och hitta skatten!


























Börja vid C3.

Flytta åt vänster 1 ruta.

Flytta åt höger 3 rutor.

Flytta nedåt 1 ruta.

Flytta uppåt 3 rutor Var är skatten?

| | 1 | 2 | 3 | 4 | 5 |
|---|---|---|---|--|---|
| A |  |  |  |  |  |
| B |  |  |  |  |  |
| C |  |  |  |  |  |
| D |  |  |  |  |  |
| E |  |  |  |  |  |