

# Skattjakt

Följ ledtrådarna och hitta skatten!




















Börja vid E2.

Flytta åt höger 3 rutor.

Flytta uppåt 2 rutor.

Flytta åt vänster 2 rutor.

Flytta åt höger 2 rutor Var är skatten?

	1	2	3	4	5
A					
B					
C					
D					
E	