

Skattjakt

Följ ledtrådarna och hitta skatten!





















Börja vid E3.

Flytta åt höger 2 rutor.

Flytta åt vänster 1 ruta.

Flytta åt vänster 1 ruta.

Flytta åt vänster 2 rutor Var är skatten?

	1	2	3	4	5
A					
B					
C					
D					
E	