

Skattjakt

Följ ledtrådarna och hitta skatten!





















Börja vid C5.

Flytta nedåt 1 ruta.

Flytta uppåt 1 ruta.

Flytta åt vänster 3 rutor.

Flytta åt vänster 1 ruta Var är skatten?

	1	2	3	4	5
A					
B					
C					
D					
E	