

Skattjakt

Följ ledtrådarna och hitta skatten!




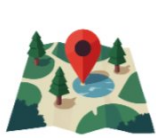


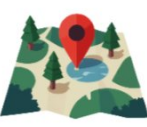









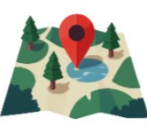





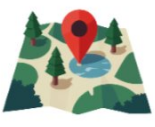


Börja vid A2.

Flytta österut 2 rutor.

Flytta västerut 2 rutor.

Flytta österut 2 rutor.

Flytta västerut 3 rutor Var är skatten?

| | 1 | 2 | 3 | 4 | 5 |
|---|---|---|---|--|---|
| A |  |  |  |  |  |
| B |  |  |  |  |  |
| C |  |  |  |  |  |
| D |  |  |  |  |  |
| E |  |  |  |  |  |